

令和5年度 愛知教育大学大学院・静岡大学大学院  
教育学研究科共同教科開発学専攻 入学試験

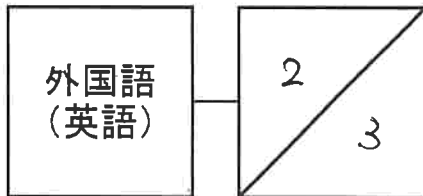
|             |        |
|-------------|--------|
| 外国語<br>(英語) | 1<br>3 |
|-------------|--------|

|          |
|----------|
| 受験<br>番号 |
|----------|

【第1問】 次の英文を読んで以下の質問に答えなさい。

著作権の関係上未掲載としています。

令和5年度 愛知教育大学大学院・静岡大学大学院  
教育学研究科共同教科開発学専攻 入学試験



|          |
|----------|
| 受験<br>番号 |
|----------|

著作権の関係上未掲載としています。

出典：Chapter 10 : The Screen vs. the Printed Page. pp.122~123.  
PASSWORD 4 (third edition), Pearson Education, Inc.

- 問1. 人々が(1)のようになる理由は何か？
- 問2. 人々が(2)のようになる原因は何か？
- 問3. (3)のような原因の結果、どのようなことが起こると書かれているか？
- 問4. 多くの学生が(4)のような行動をする原因は何だと思われるか？
- 問5. 上記の英文、the screen vs. the printed pageの議論を受けて、あなたはどうか、あなた自身の意見・考えを解答用紙の所定の欄に100語程度の英文でまとめなさい。

令和5年度 愛知教育大学大学院・静岡大学大学院  
教育学研究科共同教科開発学専攻 入学試験

|             |        |
|-------------|--------|
| 外国語<br>(英語) | 3<br>3 |
|-------------|--------|

|          |
|----------|
| 受験<br>番号 |
|----------|

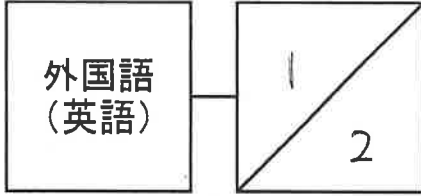
【第2問】 次の英文を読んで、後の問いに答えなさい。

著作権の関係上未掲載としています。

出典：Myopia in Japan's children worsening, shows ministry survey  
The Japan Times (Jun23, 2022)

- 問1. 下線部(1)の the axial length とは何のことか？ 具体的に答えよ。
- 問2. 筆者が(2)のように主張する根拠を文中の数値を用いて説明せよ。
- 問3. 下線部(3)の the figure は何を指しているか？ 文中の他の英語の語句を用いて言い換えよ。
- 問4. 下線部(4)は何を指すか？ 英語で答えよ。
- 問5. なぜ文部科学省はこのような調査を行ったのか？ 英文から読み取って答えよ。

令和5年度 愛知教育大学大学院・静岡大学大学院  
教育学研究科共同教科開発学専攻 入学試験  
解答用紙



受験  
番号

【第1問】

問1.

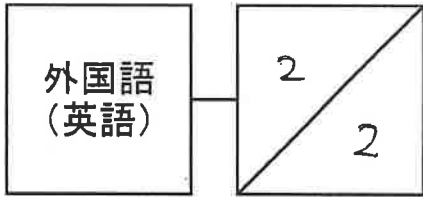
問2.

問3.

問4.

問5.

令和5年度 愛知教育大学大学院・静岡大学大学院  
教育学研究科共同教科開発学専攻 入学試験  
解答用紙



受験  
番号

---

【第2問】

問1.

問2.

問3.

問4.

問5.